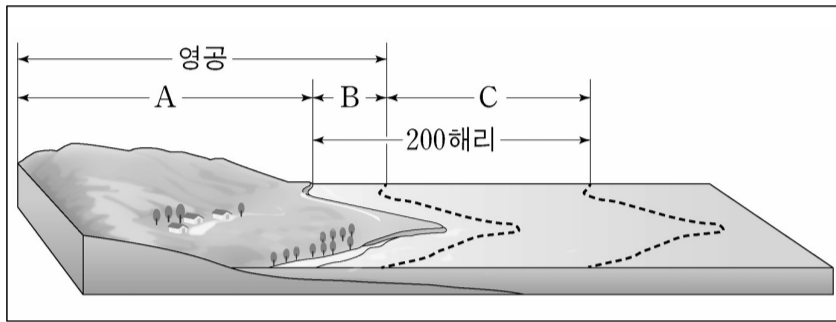


제 4 교시

# 사회탐구 영역(한국지리)

성명  수험번호

1. 다음 그림에 대한 설명으로 옳은 것을 <보기>에서 있는 대로 고른 것은? (단, A~C는 각각 영해, 영토, 배타적 경제 수역 중 하나임.) [3점]



<보 기>  
 ㄱ. B에서는 외국 선박의 무해 통항권이 인정된다.  
 ㄴ. 독도 주변 8해리는 C에 해당한다.  
 ㄷ. 간척을 통해 A의 범위가 확대되면, B의 범위는 축소된다.

- ① ㄱ    ② ㄴ    ③ ㄱ, ㄴ    ④ ㄱ, ㄷ    ⑤ ㄱ, ㄴ, ㄷ

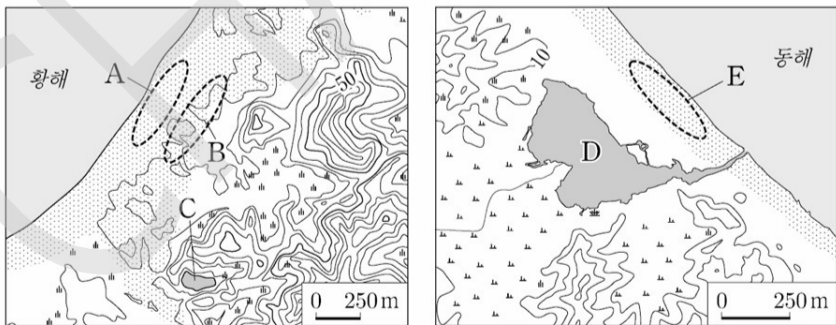
2. 다음 글은 충청북도의 (가)~(라) 지역에 대한 것이다. (가)~(라)에 해당하는 설명으로 옳은 것만을 <보기>에서 고른 것은? (단, (가)~(라)는 각각 진천, 충주, 제천, 청주 중 하나임)

○ (가)는 군(郡)지역이다.  
 ○ (나)는 (가)와 접하고 있다.  
 ○ (다)는 (라)보다 인구가 많다.

<보 기>  
 ㄱ. (가)에는 혁신도시가 입지해있다.  
 ㄴ. (나)는 (다)보다 인구가 많다.  
 ㄷ. (가)~(라) 중 제조업 출하액이 가장 많은 지역은 (라)이다.

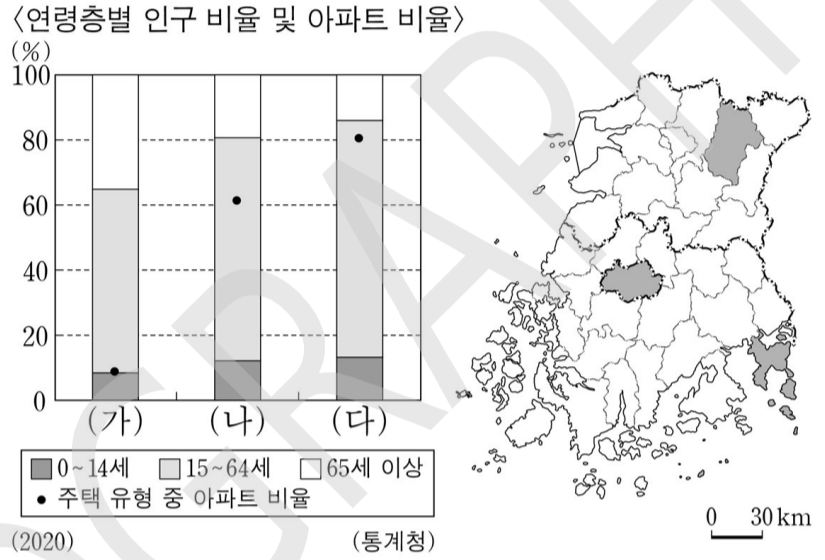
- ① ㄱ    ② ㄴ    ③ ㄷ    ④ ㄱ, ㄴ    ⑤ ㄱ, ㄴ, ㄷ

3. 지도의 A~E 지형에 대한 설명으로 옳은 것은?



- ① A는 B보다 퇴적 물질의 평균 입자 크기가 작다.  
 ② A와 E는 최후 빙기에 형성되었다.  
 ③ C와 D의 물은 주로 농업 용수로 이용된다.  
 ④ D와 E는 주로 파랑 에너지가 분산되는 곳에서 발달한다.  
 ⑤ E는 A와 달리 조류의 퇴적 작용으로 인해 형성되었다.

4. 다음은 연령층별 인구 비율 및 아파트 비율을 나타낸 것이다. 이에 대한 설명으로 옳은 것은? (단, (가)~(다)는 각각 지도에 표시된 세 지역 중 하나임.) [3점]



- ① (가)와 (나)는 시(市)지역이다.  
 ② (가)는 (나)보다 노년층 인구가 많다.  
 ③ (나)는 (가)보다 인구 밀도가 낮다.  
 ④ (다)는 (나)보다 제조업 출하액이 많다.  
 ⑤ (가)~(다) 중 총부양비가 가장 낮은 지역은 (다)이다.

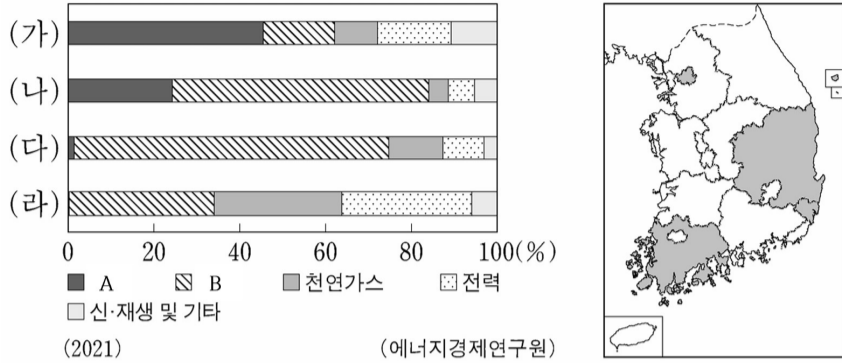
5. 다음 자료는 (가)~(라) 지역의 총전입 인원과 총전출 인구를 나타낸 것이다. 이에 대한 설명으로 옳은 것은? (단, (가)~(라)는 각각 서울, 대구, 충남, 전북 중 하나임.) [3점]

행정구역	총전입(명)	총전출(명)
(가)	1,201,527	1,236,867
(나)	199,432	204,547
(다)	265,354	276,873
(라)	260,488	246,174

(2020) (통계청)

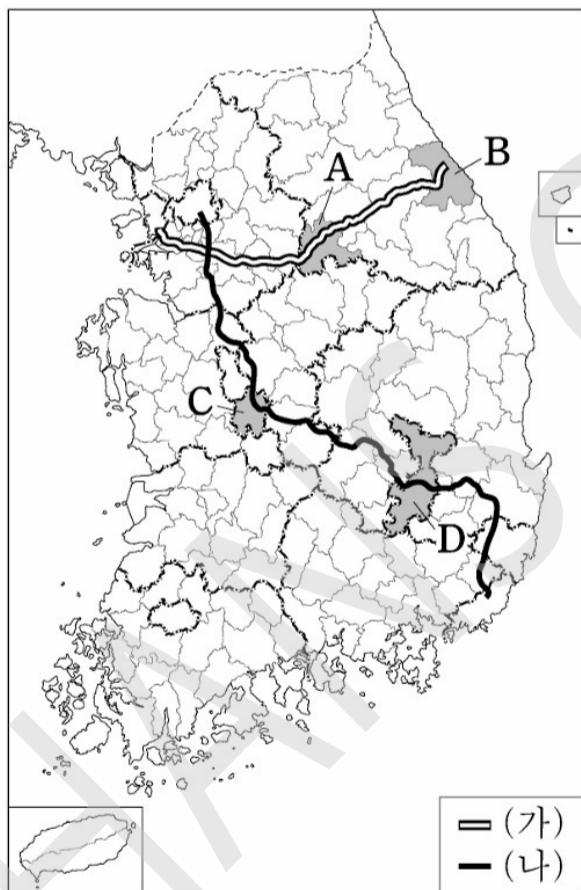
- ① (가)는 (나)보다 순유출 인구가 적다.  
 ② (나)는 (가)보다 1차 산업 종사자 수가 많다.  
 ③ (다)는 (나)보다 총인구가 적다.  
 ④ (라)는 (다)와 달리 혁신도시가 입지해있다.  
 ⑤ (가), (나), (라)는 지하철역이 입지해있다.

6. 그래프는 지도에 표시된 네 지역의 최종 에너지 소비량 비율을 나타낸 것이다. 이에 대한 설명으로 옳은 것은? (단, A~B는 각각 석탄, 석유 중 하나임.) [3점]



- ① A는 B보다 국내에서 상용화된 시기가 늦다.
- ② B는 A보다 연소 시 대기 오염 물질 배출량이 많다.
- ③ (가)는 (나)보다 1차 에너지 총공급량이 적다.
- ④ (나)는 (다)보다 천연가스의 지역 내 소비 비율이 높다.
- ⑤ (다)는 (라)보다 석유 공급량이 적다.

7. 지도는 (가), (나) 고속 국도 노선과 A~D 도시를 표시한 것이다. 이에 대한 설명으로 옳은 것은?



- \* 군위군은 2023년 대구광역시로 편입됨.
- ① (가)가 통과하는 지역들은 모두 시(市)지역이다.
  - ② A는 B보다 인구가 많다.
  - ③ B는 C와 달리 혁신도시가 입지해있다.
  - ④ C는 D와 달리 수도권 전철이 연결되어 있다.
  - ⑤ D는 A보다 제조업 종사자 수가 적다.

8. 다음 자료의 (가)~(다) 섬에 대한 설명으로 옳은 것은?

구분	(가)	(나)	(다)
섬			
기준점(▲) 위·경도	34° 04' 32" N 125° 06' 31" E	33° 07' 03" N 126° 16' 10" E	37° 14' 22" N 131° 52' 08" E
특징	<ul style="list-style-type: none"> <li>섬의 이름은 '사람이 살 수 있는 곳'이라는 뜻에서 유래.</li> <li>일제 강점기에 '소흑산도'로 불렸으나, 2008년에 현 지명으로 복원.</li> </ul>	<ul style="list-style-type: none"> <li>섬의 최고점이 약 39m로 해안 일부가 기암절벽으로 이루어진 화산섬.</li> <li>섬 전체가 남북으로 긴 고구마 모양으로 평탄한 초원이 있음.</li> </ul>	<ul style="list-style-type: none"> <li>섬의 이름은 돌섬이라는 뜻의 독섬에서 유래. '독'이 '홀로 독'으로 한자화 됨.</li> <li>동도와 서도 외에 89개의 부속 도서로 구성.</li> </ul>

- ① (가)는 우리나라 영토의 최남단(극남)에 위치한다.
- ② (나)는 영해 설정에 직선 기선을 적용한다.
- ③ (다) 주변 3해리는 우리나라의 배타적 경제 수역에 해당한다.
- ④ (가)와 (나)는 행정 구역상 제주도에 속한다.
- ⑤ (나)는 (다)보다 우리나라의 중앙 경선과의 거리가 가깝다.

9. 다음은 학생이 수업 시간에 정리한 내용의 일부이다. ㉠~㉢에 대한 설명으로 옳은 것을 <보기>에서 있는 대로 고른 것은?

우리나라의 바람

- 계절풍: 계절에 따라 풍향이 달라지는 바람이다. 여름에는 ㉠ 남서풍 혹은 남동풍이 주로 불며, ㉡ 겨울에는 북서풍이 탁월하다.
- ㉢ 낄새바람: 늦봄에서 초여름 사이에 북동풍이 태백산맥을 넘으면서 ㉡ 편 현상을 동반할 때 영서 지방에 부는 바람이다.

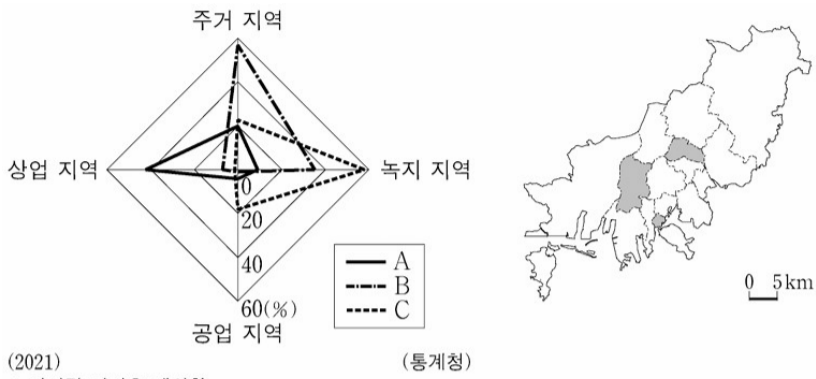
- <보 기>
- ㉠. ㉡시기에 주로 ㉠이 나타난다.  
 ㉡. ㉢은 오호츠크해 기단의 영향을 받는다.  
 ㉢. ㉡은 경기도 일대에 가뭄 피해를 일으키기도 한다.
- ① ㉠    ② ㉡    ③ ㉢    ④ ㉠, ㉡    ⑤ ㉡, ㉢

10. 다음 자료의 (가)~(나)에 대한 설명으로 옳은 것을 <보기>에서 있는 대로 고른 것은? (단, (가), (나)는 각각 기업 도시, 혁신 도시 중 하나임.) [3점]

- (가)는 수도권에 집중된 공공 기관을 지방으로 이전시켜 조성하는 미래형 도시이다.
- 분포 지역을 일부 살펴보면, 원주에는 (가)와 (나)가 모두 입지해있지만, 충주에는 (나)만 입지하고 있다.

- <보 기>
- ㉠. (나)의 각 지역에는 수도권에서 이전한 공공 기관이 입지한다.  
 ㉡. 전남에는 (가), (나)가 모두 입지해있다.  
 ㉢. (가), (나) 추진 시기에 수도권의 인구 집중도가 낮아졌다.
- ① ㉡    ② ㉢    ③ ㉠, ㉡    ④ ㉠, ㉢    ⑤ ㉠, ㉡, ㉢

11. 그래프는 지도에 표시된 부산광역시 세 구(區)의 용도별 토지 이용 비율을 나타낸 것이다. 이에 대한 설명으로 옳은 것은? [3점]



(2021) \*미지정 지역은 제외함.

- ① A는 B보다 상주 인구가 많다.
- ② B는 C보다 제조업 출하액이 많다.
- ③ C는 A보다 주간 인구 지수가 높다.
- ④ A, B는 C와 달리 사상구와 인접해있다.
- ⑤ 인구는 B > C > A 순으로 많다.

12. (가), (나)는 조선 시대에 제작된 지리지의 일부이다. 이에 대한 설명으로 옳은 것은? (단, (가), (나)는 『세종실록지리지』, 『택리지』 중 하나임.)

(가)	㉠경주(慶州)부 신라의 옛 도읍이다. ... 호(戶) 수는 1천 5백 52호, 인구가 5천 8백 94명이며, ... 간전(墾田)은 1만 9천 7백 33결(結)이다.
(나)	㉡상주(尙州)는 조령 밑에 있는 큰 도회지다. ㉢산이 웅장하고 들이 넓다. 북쪽으로는 조령과 가까워 충청도, 경기도와 통하고, 동쪽으로는 낙동강에 인접해 김해, 동래와 통한다.

- ① (가)는 (나)와 달리 개인 주도로 제작하였다.
- ② (가)는 (나)와 달리 내용이 설명식으로 서술되었다.
- ③ (나)는 (가)와 달리 국가 통치에 필요한 자료 수집을 통해 제작되었다.
- ④ ㉠은 경상남도, ㉡는 충청북도와 접하고 있다.
- ⑤ ㉢은 가거지(可居地)의 조건 중 지리(地理)에 해당한다.

13. 다음 자료의 (가)~(다)에 해당하는 주요 작물로 옳은 것은? (단, (가)~(다)는 각각 쌀, 채소, 과일 중 하나임.)

- (가)은/는 (나), (다) 보다 총 재배 면적이 넓다.
- (나)은/는 (다)에 비해 1인당 소비량이 많다.

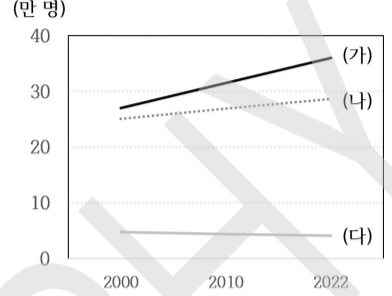
- ① (가)는 (나)보다 권역별 생산량 비율에서 충청권이 차지하는 비율이 높다.
- ② (나)는 (다)보다 권역별 생산량 비율에서 강원권이 차지하는 비율이 낮다.
- ③ (다)는 (가)보다 노지에서 재배되는 비율이 높다.
- ④ 보리는 주로 (나)의 그루같이 작물로 남부 지방에서 재배된다.
- ⑤ 김장철에 소비량이 급증하는 것은 (다)이다.

14. 다음 자료는 강원도 세 지역의 인구 및 산업 특성을 나타낸 것이다. 이에 대한 설명으로 옳은 것은? (단, (가)~(다), A~C는 각각 원주, 춘천, 평창 중 하나임.) [3점]

<지역 내 주요 산업별 종사자 수 비율(%)>

지역	농업, 임업 및 어업	광업 및 제조업
A	1	8
B	0	15
C	4	8

<지역 내 인구 변화>



\*\*소수 첫째자리에서 반올림함. (2022)

- ① A에는 기업도시와 혁신도시가 입지해있다.
- ② B는 C와 달리 고랭지 채소 재배가 발달해있다.
- ③ (가)는 (나)와 달리 수도권 전철이 연결되어 있다.
- ④ 3차 산업 종사자 수 비율은 (가)가 가장 높다.
- ⑤ 인구는 B > A > C 순으로 많다.

15. 다음 자료는 한반도의 지체 구조에 관한 것이다. 이에 대한 설명으로 옳은 것은?

- 고생대 초기에는 해성층인 (가)이 형성되었고 고생대 말기에는 육성층인 (나)이 형성되었다.
- 중생대의 지각 변동 중 한반도 전역에 영향을 미친 것은 중생대 중기에 일어난 (다)이 있다. 결과로 넓은 범위에 걸쳐 화강암이 형성되었다.
- 신생대에 형성된 퇴적암은 길주·명천 지괴와 (라)에 분포해 있으며, 두 퇴적층은 분포 면적이 그리 넓지 않다.

- ① (가)와 (나)는 변성암보다 형성 시기가 이르다.
- ② (다)로 인해 라오동 방향의 지질 구조선이 형성되었다.
- ③ (라)에서는 주로 공룡 발자국이 발견된다.
- ④ (가)는 (나)와 달리 고생대 조륙 운동 이전에 형성되었다.
- ⑤ (라)는 (다)와 달리 울릉도와 독도 형성에 영향을 미쳤다.

16. 다음은 세 자연재해에 관한 재난 안전 문자 내용이다. (가)~(다)에 대한 설명으로 옳은 것만을 <보기>에서 고른 것은? (단, (가)~(다)는 각각 폭염, 한파, 호우 중 하나임.)

(가)

○○ 주의보가 발효되었습니다. 야외 활동 자제, 충분한 물 마시기, 가벼운 옷차림, 양산 지니기 등 건강에 유의 바랍니다.

(나)

△△ 주의보가 발효되었습니다. 많은 비가 예상되니 하천 범람 및 산사태 취약 지역 접근 금지 등 안전에 유의 바랍니다.

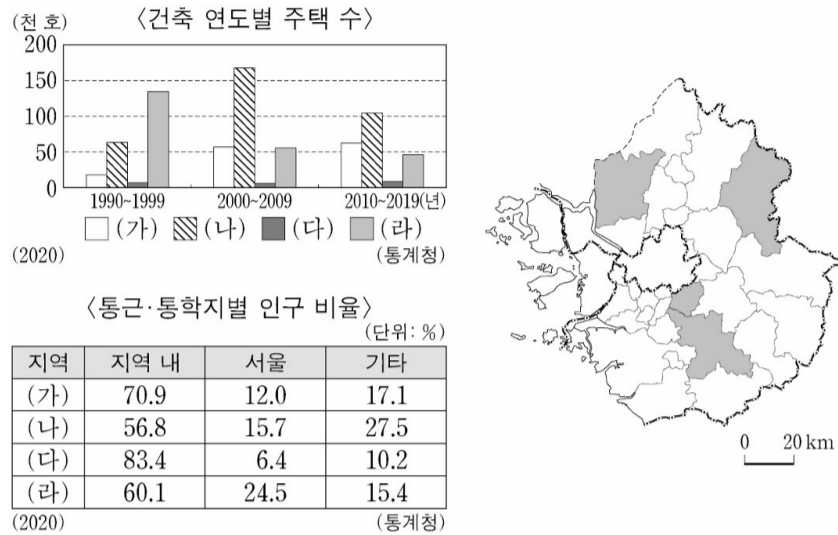
(다)

◇◇ 경보가 발효되었습니다. 노약자 보온 유지, 수도관 동파 방지, 차량 서행 운전 등 건강과 안전에 유의 바랍니다.

- <보 기>
- ㄱ. (가)~(다)는 모두 기후 관련 자연 재해이다.
  - ㄴ. (가)는 제주도에 가장 길게 나타난다.
  - ㄷ. (나)는 충북의 자연재해 피해액 중 차지하는 비율이 가장 높다.
  - ㄹ. (다)는 주로 남고북저형 기압 배치가 나타나는 계절에 발생한다.

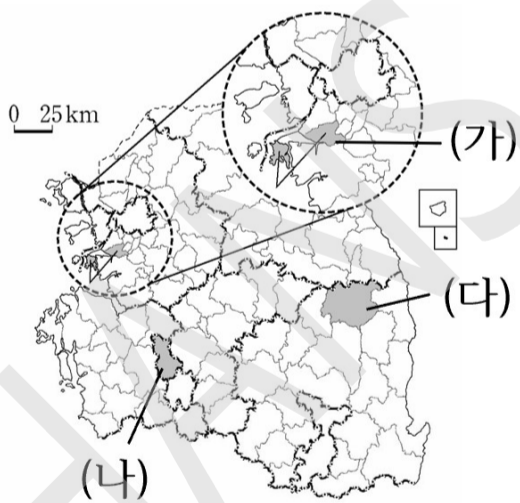
- ① ㄱ, ㄴ    ② ㄱ, ㄷ    ③ ㄴ, ㄷ    ④ ㄴ, ㄹ    ⑤ ㄷ, ㄹ

17. 다음 자료는 지도에 표시된 네 지역의 특성을 나타낸 것이다. 이에 대한 설명으로 옳은 것을 <보기>에서 있는 대로 고른 것은? [3점]



- <보 기>
- ㄱ. (가)는 (나)보다 제조업 종사자 비율이 높다.  
 ㄴ. (다)는 (나)보다 주간 인구 지수가 높다.  
 ㄷ. (라)는 (다)보다 2010~2020년 인구 증가율(%)이 낮다.
- ① ㄱ    ② ㄴ    ③ ㄱ, ㄴ    ④ ㄱ, ㄷ    ⑤ ㄱ, ㄴ, ㄷ

18. 지도에 표시된 (가)~(다) 지역에 대한 설명으로 옳은 것은? [3점]



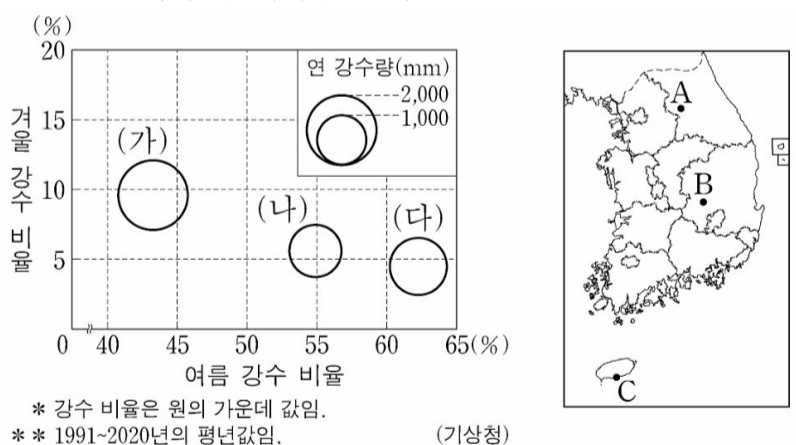
- ① (가)는 (나)보다 인구가 적다.  
 ② (나)는 (다)보다 노년 부양비가 높다.  
 ③ (다)는 (가)보다 결혼 이민자 수가 많다.  
 ④ 전국에서 총부양비가 가장 높은 곳은 (나)이다.  
 ⑤ 경기도의 시·군 중 외국인 수가 가장 많은 곳은 (가)이다.

19. 다음 자료는 제주도와 울릉도를 방문한 여행객이 사회 관계망 서비스(SNS)에 올린 내용이다. ㉠~㉤에 대한 설명으로 옳은 것을 <보기>에서 있는 대로 고른 것은?

㉠ 나리분지 #울릉도  
 ㉡ 알봉 #울릉도  
 ㉢ 만장굴 #제주도  
 ㉣ 백록담 #제주도

- <보 기>
- ㄱ. ㉠은 칼데라 분지이다.  
 ㄴ. ㉡은 ㉠보다 형성 시기가 늦다.  
 ㄷ. ㉢은 지하수의 용식 작용으로 형성되었다.  
 ㄹ. ㉣은 백두산 천지보다 규모가 크다.
- ① ㄱ, ㄴ    ② ㄱ, ㄷ    ③ ㄴ, ㄷ    ④ ㄴ, ㄹ    ⑤ ㄷ, ㄹ

20. 그래프는 지도에 표시된 세 지역의 기후 자료이다. 이에 대한 설명으로 옳은 것은? (단, (가)~(다)는 각각 지도에 표시된 A~C 지역 중 하나임.) [3점]



- ① A는 B보다 연 강수량이 적다.  
 ② B는 A보다 여름 강수량이 적다.  
 ③ B는 C보다 겨울 평균 기온이 높다.  
 ④ C는 A보다 여름 강수 비율이 높다.  
 ⑤ C는 B보다 여름 강수량이 적다.

\* 확인 사항  
 ○ 답안지의 해당란에 필요한 내용을 정확히 기입(표기)했는지 확인 하시오.